

تم تحميل وعرض المادة من

موقع حلول كتبي

المدرسة أونلاين



موقع  
حلول كتبي

<https://hululkitab.co>



للعودة إلى الموقع إبحث في قوقل عن : موقع حلول كتبي

## (( اختبار الفترة الأولى لمادة العلوم للصف الرابع الابتدائي الفترة الدراسية الثانية ١٤٤٧هـ ))

اسم الطالب / ة ..... الصف: .....

( 5 درجات )

السؤال الأول : اختاري الإجابة الصحيحة :

1 - اللون والقساوة والبريق من الخصائص التي تميز :			
التربة	المعادن	الطبقات	الأحافير
2- من مصادر الماء :			
الماء المالح	الماء العذب	المياه الجوفية	جميع ما سبق
3- يجعل الأجسام البعيدة تبدو قريبة :			
النجم	الكوكب	التلسكوب	الكون
4- معظم بقايا النباتات والحيوانات الميتة توجد في :			
الصخور المتحولة	الصخور الرسوبية	الصخور النارية	المعادن
5- الخط الذي يصل بين قطبي الأرض :			
خط الطول	محور الأرض	دوائر العرض	_____

( 5 درجات )

السؤال الثاني : ضعي علامة ( √ ) أو ( × ) أمام كل عبارة مما يلي :

1	البئر ثقب يحفر في الأرض ليصل على المياه .
2	التلوث إضافة مواد ضارة وغير مرغوب فيها الى البيئة.
3	يحدث كسوف الشمس عندما يقع القمر بين الشمس والأرض .
4	نحصل على الماء العذب من البحار والمحيطات .
5	دورة الأرض السنوية تحدث خلال 24 ساعة .

(5 درجات )

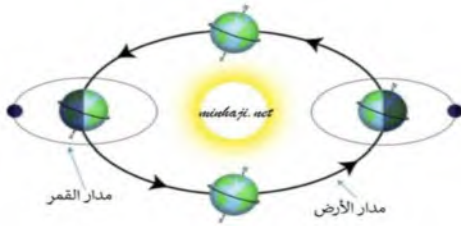
السؤال الثالث : أكمل الفراغات بما يناسبها :

المياه الجوفية	الجرانيت	المدار	خسوف القمر	النجم
----------------	----------	--------	------------	-------

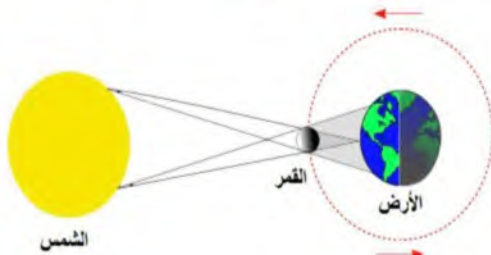
1	.....المسار الدائري وغير الدائري الذي يسلكه الجسم .
2	..... كرة من الغازات الساخنة ينبعث منها الضوء والحرارة .
3	..... مياه تتجمع في الفراغات فوق الصخور .
4	يحدث ..... عندما تقع الأرض بين الشمس والقمر .
5	..... يتكون من حبيبات كبيرة وواضحة .

السؤال الرابع : اكمل :

1 - الى أي ظاهرة تشير الرسمه التي أمامك



.....



.....

من خصائص المعادن :

-2

موقع  
حلول كتبي

تمنيتي لكن بالتوفيق ،،،،،،،، معلمة المادة / وداد الحري. ♥

(( اختبار الفترة الأولى للمادة العلوم للصف الرابع الابتدائي الفترة الدراسية الثانية ١٤٤٧هـ ))

اسم الطالب / ة ..... (( نموذج إجابة )) ..... الصف: .....

السؤال الأول : اختاري الإجابة الصحيحة : ( ٥ درجات )

١ - اللون والقساوة والبريق من الخصائص التي تميز :			
التربة	المعادن	الطبقات	الأحافير
٢- من مصادر الماء :			
الماء المالح	الماء العذب	المياه الجوفية	جميع ما سبق
٣- يجعل الأجسام البعيدة تبدو قريبة :			
النجم	الكوكب	التلسكوب	الكون
٤- معظم بقايا النباتات والحيوانات الميتة توجد في :			
الصخور المتحولة	الصخور الرسوبية	الصخور النارية	المعادن
٥- الخط الذي يصل بين قطبي الأرض :			
خط الطول	محور الأرض	دوائر العرض	_____

السؤال الثاني : ضعي علامة ( √ ) أو ( × ) أمام كل عبارة مما يلي : ( ٥ درجات )

١	البئر ثقب يحفر في الأرض ليصل على المياه .	صح
٢	التلوث إضافة مواد ضارة وغير مرغوب فيها الى البيئة.	صح
٣	يحدث كسوف الشمس عندما يقع القمر بين الشمس والأرض .	صح
٤	نحصل على الماء العذب من البحار والمحيطات .	خطأ
٥	دورة الأرض السنوية تحدث خلال ٢٤ ساعة .	خطأ

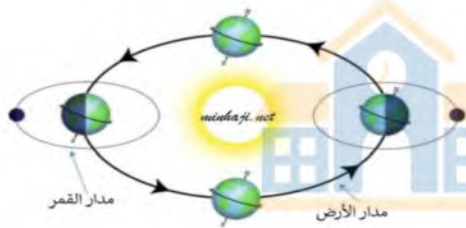
( ٥ درجات )

السؤال الثالث : أكمل الفراغات بما يناسبها :

المياه الجوفية	الجرانيت	المدار	خسوف القمر	النجم
----------------	----------	--------	------------	-------

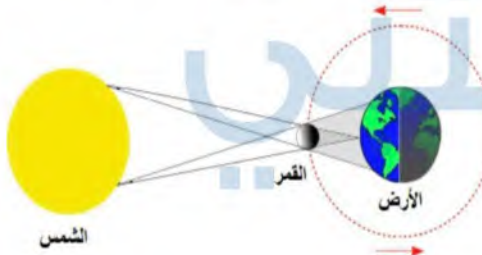
١	.....المدار.....	المسار الدائري وغير الدائري الذي يسلكه الجسم .
٢	..... النجم .....	كرة من الغازات الساخنة ينبعث منها الضوء والحرارة .
٣	... المياه الجوفية .....	مياه تتجمع في الفراغات فوق الصخور .
٤	يحدث .... خسوف القمر .....	عندما تقع الأرض بين الشمس والقمر .
٥	.... الجرانيت .....	يتكون من حبيبات كبيرة وواضحة .

السؤال الرابع : اكمل :



١ - الى أي ظاهرة تشير الرسمه التي أمامك

...دورة الأرض السنوية ...



...كسوف الشمس...

من خصائص المعادن :

-٢

المخدش

اللون والقساوة

البريق

(( اختبار الفترة الأولى لمادة العلوم للصف الرابع الابتدائي الفترة الدراسية الثانية ١٤٤٧هـ ))

اسم الطالب / ة ..... الصف: .....

**السؤال الأول : اختاري الإجابة الصحيحة :** ( ١٠ درجات )

١ - اللون والقساوة والبريق من الخصائص التي تميز :			
التربة	المعادن	الطبقات	الأحافير
٢- من مصادر الماء :			
الماء المالح	الماء العذب	المياه الجوفية	جميع ماسبق
٣- يجعل الأجسام البعيدة تبدو قريبة :			
النجم	الكوكب	التلسكوب	الكون
٤- معظم بقايا النباتات والحيوانات الميتة توجد في :			
الصخور المتحولة	الصخور الرسوبية	الصخور النارية	المعادن
٥- الخط الذي يصل بين قطبي الأرض :			
خط الطول	محور الأرض	دوائر العرض	_____
٦- ما الذي يسبب تغير الفصول الأربعة على سطح الأرض :			
دورة الأرض حول محورها	دورة الأرض حول الشمس	دوران الأرض حول القمر	تعاقب الليل والنهار
٧- عملية توصيل الماء الى التربة الزراعية يسمى :			
الري	الرش	التبخير	البئر
٨- كرة من الغازات الساخنة تنبعث منه الضوء والحرارة			
القمر	النجم	الكوكب	الشهاب
٩- يستغرق القمر ليرتد دورته كاملة حوالي .....			
شهر	سنة	أسبوع	يوم
١٠- أكبر الكواكب في المجموعة الشمسية :			
المريخ	المشتري	زحل	الزهرة

( ٥ درجات )

السؤال الثاني : ضعي علامة ( √ ) أو ( x ) أمام كل عبارة مما يلي :

١	البئر ثقب يحفر في الأرض ليصل على المياه .
٢	التلوث إضافة مواد ضارة وغير مرغوب فيها الى البيئة .
٣	يحدث كسوف الشمس عندما يقع القمر بين الشمس والأرض .
٤	أطوار القمر هي أشكال القمر الظاهرية .
٥	دورة الأرض السنوية تحدث خلال ٢٤ ساعة .

( ٥ درجات )

السؤال الثالث : أكملی الفراغات بما يناسبها :

المياه الجوفية	الجرانيت	المدار	خسوف القمر	المالح
----------------	----------	--------	------------	--------

١	.....المسار الدائري وغير الدائري الذي يسلكه الجسم .
٢	الماء ..... غير قابل للشرب .
٣	..... مياه تتجمع في الفراغات فوق الصخور .
٤	يحدث ..... عندما تقع الأرض بين الشمس والقمر .
٥	..... يتكون من حبيبات كبيرة وواضحة .

تمنياتي لكن بالتوفيق ،،،،،،،،،، معلمة المادة / وداد الحري . ♥

# نموذج الاجابة

المملكة العربية السعودية  
وزارة التعليم  
إدارة التعليم بمنطقة .....  
المدرسة : ابتدائية .....

(( اختبار الفترة الأولى لمادة العلوم للصف الرابع الابتدائي الفترة الدراسية الثانية ١٤٤٧هـ ))

اسم الطالب / ..... ((نموذج إجابة .)) ..... الصف: .....

( ١٠ درجات )

السؤال الأول : اختاري الإجابة الصحيحة :

١ - اللون والقساوة والبريق من الخصائص التي تميز :			
التربة	المعادن	الطبقات	الأحافير
٢- من مصادر الماء :			
الماء المالح	الماء العذب	المياه الجوفية	جميع ما سبق
٣- يجعل الأجسام البعيدة تبدو قريبة :			
النجم	الكوكب	التلسكوب	الكون
٤- معظم بقايا النباتات والحيوانات الميتة توجد في :			
الصخور المتحولة	الصخور الرسوبية	الصخور النارية	المعادن
٥- الخط الذي يصل بين قطبي الأرض :			
خط الطول	محور الأرض	دوائر العرض	_____
٦- ما الذي يسبب تغير الفصول الأربعة على سطح الأرض :			
دورة الأرض حول محورها	دورة الأرض حول الشمس	دوران الأرض حول القمر	تعاقب الليل والنهار
٧- عملية توصيل الماء الى التربة الزراعية يسمى :			
الري	الرش	التبخير	البئر
٨- كرة من الغازات الساخنة تنبعث منه الضوء والحرارة			
القمر	النجم	الكوكب	الشهاب
٩- يستغرق القمر ليرتد دورته كاملة حوالي .....			
شهر	سنة	أسبوع	يوم
١٠- أكبر الكواكب في المجموعة الشمسية :			
المريخ	المشتري	زحل	الزهرة

( ٥ درجات )

السؤال الثاني : ضع علامة ( √ ) أو ( × ) أمام كل عبارة مما يلي :

١	البئر ثقب يحفر في الأرض ليصل على المياه .	صح
٢	التلوث إضافة مواد ضارة وغير مرغوب فيها الى البيئة .	صح
٣	يحدث كسوف الشمس عندما يقع القمر بين الشمس والأرض .	صح
٤	أطوار القمر هي أشكال القمر الظاهرية .	صح
٥	دورة الأرض السنوية تحدث خلال ٢٤ ساعة .	خطأ

( ٥ درجات )

السؤال الثالث : أكمل الفراغات بما يناسبها :

المياه الجوفية	الجرانيت	المدار	خسوف القمر	المالح
١	... المدار.....المسار الدائري وغير الدائري الذي يسلكه الجسم .			
٢	الماء ..... المالح .... غير قابل للشرب .			
٣	.....المياه الجوفية ..... مياه تتجمع في الفراغات فوق الصخور .			
٤	يحدث ..... خسوف القمر ..... عندما تقع الأرض بين الشمس والقمر .			
٥	.....الجرانيت ..... يتكون من حبيبات كبيرة وواضحة .			

تمنياتي لكن بالتوفيق ،،،،،،،،، معلمة المادة / وداد الحربي . ♥