

تم تحميل وعرض المادة من

موقع حلول كتبي

المدرسة أونلاين



موقع  
حلول كتبي

<https://hulukitab.co>



للعودة إلى الموقع إبحث في قوغل عن: موقع حلول كتبي

20

الدرجة:

نموذج اختبار الفترة لمادة الدراسات الاجتماعية للصف الثالث المتوسط

اسم الطالب

الفصل

أ / ب

5 درجات

السؤال الاول: ضع علامة (√) أمام العبارة الصائبة وعلامة (x) أمام العبارة الخاطئة لما يأتي؟

1	يحثنا ديننا الاسلامي على العمل والانجاز
2	التطور التقني لم يقلل من الاعتماد على الأيدي العاملة
3	يساعد علم المساحة في تمثيل مواقع الظواهر الطبيعية
4	عندما يكون الانسان منجزا فانه يشعر بالرضا
5	التضخم غير مضر بالاقتصاد

درجتين

السؤال الثاني:

البطالة مشكلة اقتصادية واجتماعية، وقامت حكومة وطني بجهود واجراءات لتقليص نسبة البطالة ومن هذه الاجراءات (برنامج جودة الحياة) عبر بأسلوبك ويايجاز عن هذا البرنامج واهدافه؟

4 درجات

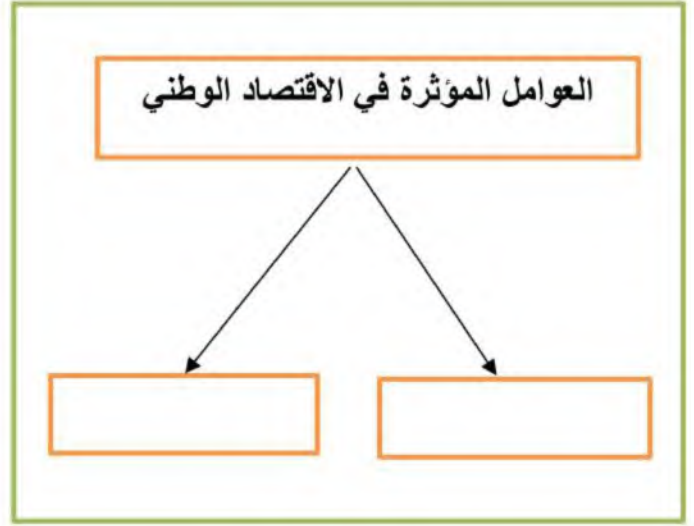
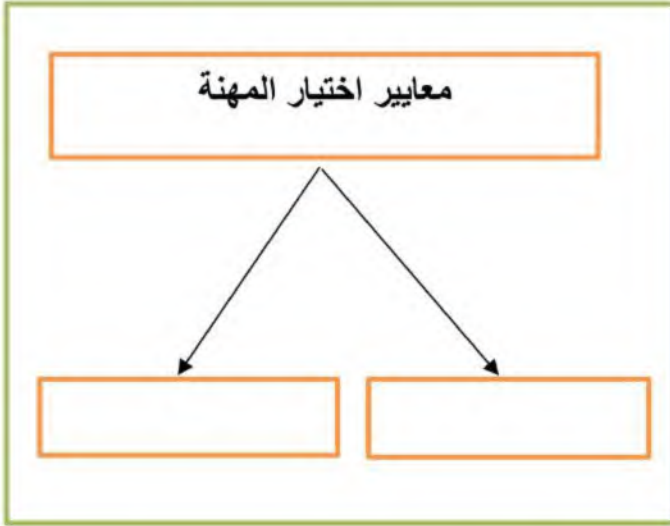
السؤال الثالث: اختر الاجابة الصحيحة في الجدول ادناه؟

1	نسبة البعد على الخريطة وما يقابله على الطبيعة:	2	كل ما يأتي من اقسام GPS ما عدا :
أ	مقياس الرسم	أ	المستخدم
ب	الاحداثيات	ب	المساحة الارضية
ج	اطار الخريطة	ج	التحكم
د	عنوان الخريطة	د	الاقمار الصناعية
3	الانشطة البشرية في مجال الانتاج والخدمات :	4	من تتوافر لديهم مهارات ولا تتوافر لهم فرص عمل
أ	الانجاز الذاتي	أ	بطالة اختيارية
ب	الانتاج	ب	بطالة هيكلية
ج	التضخم	ج	بطالة مقنعة
د	الاقتصاد الوطني	د	بطالة وظيفية

يتبع

## السؤال الرابع: أكمل خرائط المفاهيم التالية ؟

4 درجات



درجتين

## السؤال الخامس: قارن بين الخريطة والصور الجوية وفق الجدول أدناه؟

الصور الجوية	وجه المقارنة	الخريطة
	المفتاح والرموز	
	الظواهر التي تفسرها	

3 درجات

## السؤال السادس: من خلال دراستك لأنواع الخرائط ومستعينا بالشكل المجاور حدد أنواع الخرائط أدناه؟

خريطة سياسية  
خريطة مناخية  
خريطة اقتصادية  
خريطة تاريخية



# نموذج الاجابة

المادة: الدراسات الاجتماعية  
الصف: الثالث المتوسط  
اختبار منتصف الفترة  
الفصل الدراسي الثاني لعام 1447هـ

20

الدرجة:

نموذج اختبار الفترة لمادة الدراسات الاجتماعية للصف الثالث المتوسط

اسم الطالب نموذج اجابة الفصل أ / ب

5 درجات

السؤال الاول: ضع علامة (√) أمام العبارة الصائبة وعلامة (x) أمام العبارة الخاطئة لما يأتي؟

√	1	يحثنا ديننا الاسلامي على العمل والانجاز
x	2	التطور التقني لم يقلل من الاعتماد على الأيدي العاملة
√	3	يساعد علم المساحة في تمثيل مواقع الظواهر الطبيعية
√	4	عندما يكون الانسان منجزا فانه يشعر بالرضا
x	5	التضخم غير مضر بالاقتصاد

درجتين

السؤال الثاني:

البطالة مشكلة اقتصادية واجتماعية، وقامت حكومة وطني بجهود واجراءات لتقليص نسبة البطالة ومن هذه الاجراءات (برنامج جودة الحياة) عبر بأسلوبك ويايجاز عن هذا البرنامج واهدافه؟

هو احد برامج رؤية المملكة 2030 ويخدم عدة جوانب منها الجانب الاقتصادي والاجتماعي ويسهم في خفض البطالة وتوفير فرص عمل كثيرة في عدة قطاعات مختلفة

4 درجات

السؤال الثالث: اختر الاجابة الصحيحة في الجدول ادناه؟

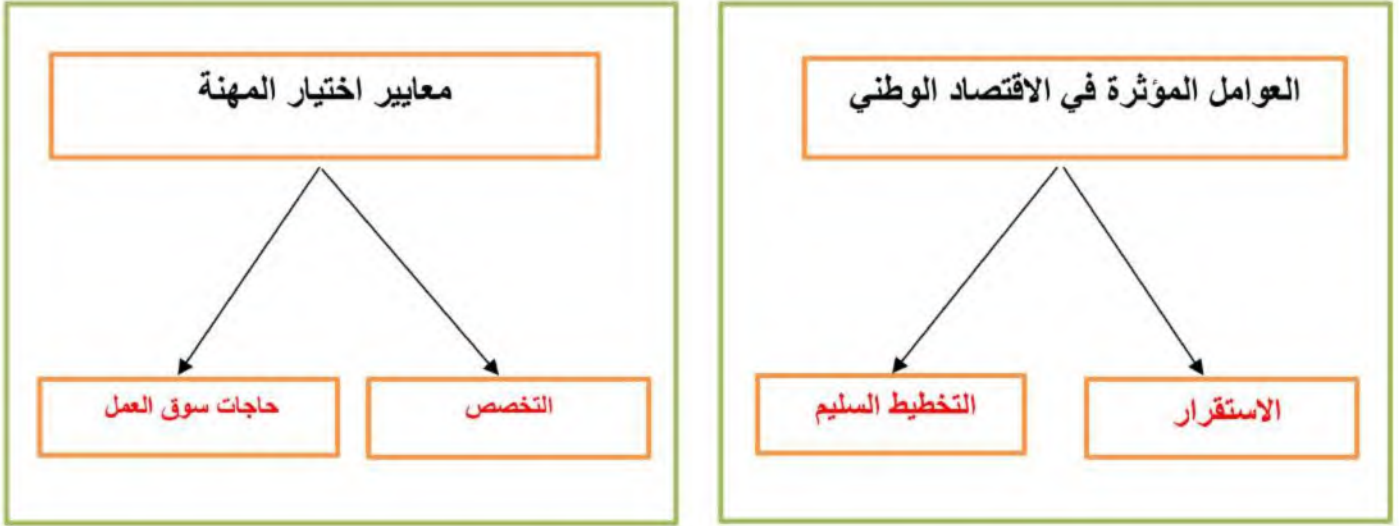
1	نسبة البعد على الخريطة وما يقابله على الطبيعة:	2	كل ما يأتي من اقسام GPS ما عدا :
أ	مقياس الرسم	أ	المستخدم
ب	الاحداثيات	ب	المساحة الارضية
ج	اطار الخريطة	ج	التحكم
د	عنوان الخريطة	د	الاقمار الصناعية
3	الانشطة البشرية في مجال الانتاج والخدمات :	4	من تتوافر لديهم مهارات ولا تتوافر لهم فرص عمل
أ	الانجاز الذاتي	أ	بطالة اختيارية
ب	الانتاج	ب	بطالة هيكلية
ج	التضخم	ج	بطالة مقنعة
د	الاقتصاد الوطني	د	بطالة وظيفية

يتبع

موقع  
حلول كتبي

## السؤال الرابع: أكمل خرائط المفاهيم التالية ؟

4 درجات



درجتين

## السؤال الخامس: قارن بين الخريطة والصور الجوية وفق الجدول أدناه؟

الصور الجوية	وجه المقارنة	الخريطة
لا يوجد بها مفتاح ورموز	المفتاح والرموز	يوجد بها مفتاح ورموز
الظواهر الثابتة والمتحركة	الظواهر التي تفسرها	الظواهر الثابتة

3 درجات

## السؤال السادس: من خلال درستك لأنواع الخرائط ومستعينا بالشكل المجاور حدد أنواع الخرائط أدناه؟

خريطة سياسية  
خريطة مناخية  
خريطة اقتصادية  
خريطة تاريخية



خريطة اقتصادية



خريطة مناخية



خريطة تاريخية

انتهت الاسئلة / محمد القرني

موقع  
حلول كتبي



نموذج اختبار الفترة  
الفصل الدراسي الثاني 1447  
المادة: الدراسات الاجتماعية  
الصف: الثالث المتوسط

الدرجة / 20

الفصل

إعداد / محمد القرني

اسم الطالب

علم المساحة  
خريطة سياسية  
الخريطة  
خريطة تضاريسية  
الاحداثيات  
الصور المائلة

**السؤال الأول: مستعينا بالشكل المجاور ضع المصطلح امام ما يناسبه من العبارات ادناه؟**

- ( تمثيل سطح الارض او جزء منع على لوحة مستوية ) ❖  
( تقاطع خطوط الطول ودوائر العرض . ) ❖  
( هي صور تلتقط بعدسات التصوير في وضع مائل . ) ❖  
( العلم الذي يبحث في الطرائق المختلفة لتمثيل سطح الارض . ) ❖  
( هي الخرائط التي توضح حدود الدول . ) ❖

5 درجات

**السؤال الثاني: ضع الرقم امام المجموعة الاولى امام ما يناسبه من المجموعة الثانية؟**

المجموعة الثانية	الرقم	المجموعة الاولى	الرقم
يحيط بالخريطة من الخارج		مقياس الرسم	1
تقاطع خطوط الطول مع دوائر العرض		اطار الخريطة	2
النسبة بين البعد على الخريطة ومايقابله على الطبيعة		عنوان الخريطة	3
اسم وموضوع الخريطة والمكان الذي تمثله			

3 درجات

**السؤال الثالث: أكمل خرائط المفاهيم التالية؟**



4 درجات

**السؤال الرابع: ( أ ) قارن بين الخريطة والصور الجوية وفق الجدول؟**

الصور الجوية	وجه المقارنة	الخريطة
	المفتاح	
	الظاهرة التي تفسرها	

5 درجات

**( ب ) وضع باختصار اهمية نظام ال GPS ؟**

**السؤال الخامس: عزيزي الطالب من خلال دراستك لأنواع الخرائط صنف ما يأتي مستعينا بالشكل المجاور؟**

خريطة سكانية  
خريطة اقتصادية  
خريطة تاريخية  
خريطة مناخية



3 درجات





نموذج اختبار الفترة  
الفصل الدراسي الثاني 1447  
المادة: الدراسات الاجتماعية  
الصف: الثالث المتوسط

# نموذج الإجابة

اسم الطالب / إعداد / محمد القرني (إجابة) الفصل الدرجة /20

علم المساحة  
خريطة سياسية  
الخريطة  
خريطة تضاريسية  
الاحداثيات  
الصور المائلة

**السؤال الأول: مستعينا بالشكل المجاور ضع المصطلح امام ما يناسبه من العبارات ادناه؟**

- ❖ ( الخريطة ) تمثيل سطح الارض او جزء منع على لوحة مستوية
- ❖ ( الاحداثيات ) تقاطع خطوط الطول ودوائر العرض .
- ❖ ( الصور المائلة ) هي صور تلتقط بعدسات التصوير في وضع مائل .
- ❖ ( علم المساحة ) العلم الذي يبحث في الطرائق المختلفة لتمثيل سطح الارض .
- ❖ ( خريطة سياسية ) هي الخرائط التي توضح حدود الدول .

5 درجات

**السؤال الثاني: ضع الرقم امام المجموعة الاولى امام ما يناسبه من المجموعة الثانية؟**

المجموعة الثانية	الرقم	المجموعة الاولى	الرقم
يحيط بالخريطة من الخارج	2	مقياس الرسم	1
تقاطع خطوط الطول مع دوائر العرض		اطار الخريطة	2
النسبة بين البعد على الخريطة ومايقابله على الطبيعة	1	عنوان الخريطة	3
اسم وموضوع الخريطة والمكان الذي تمثله	3		

3 درجات

**السؤال الثالث: اكمل خرائط المفاهيم التالية؟**



4 درجات

**السؤال الرابع: ( أ ) قارن بين الخريطة والصور الجوية وفق الجدول؟**

الصور الجوية	وجه المقارنة	الخريطة
لا تحتاج اليه	المفتاح	تحتاج ويوجد فيها
الظواهر الثابتة والمتحركة	الظاهرة التي تفسرها	الظواهر الثابتة فقط

5 درجات

**( ب ) وضع باختصار اهمية نظام ال GPS ؟**

يحدد المواقع بدقة عالية ويقيدنا في تحديد اتجاه القبلة وارشاد سائقي السيارات الى الاماكن التي يقصدونها

**السؤال الخامس: عزيزي الطالب من خلال دراستك لأنواع الخرائط صنف ما يأتي مستعينا بالشكل المجاور؟**

خريطة سكانية  
خريطة اقتصادية  
خريطة تاريخية  
خريطة مناخية



خريطة سكانية



خريطة اقتصادية



خريطة مناخية

3 درجات

المادة : اجتماعيات
الصف : الثالث المتوسط
اختبار الوحدة ٧ الفصل ٢

السؤال الأول: اختر الإجابة الصحيحة فيما يلي :

١	المقصود بالحالة الداخلية التي تدفع الفرد للتخطيط والعمل لتحقيق النجاح
	(أ) الإنجاز الذاتي (ب) المسؤولية الاجتماعية (ج) الهوية الوطنية (د) العمل التطوعي
٢	أولى خطوات تحقيق الإنجاز الذاتي
	(أ) بذل الجهد والعمل الدؤوب (ب) التعاون مع الآخرين (ج) تحديد الأهداف بدقة ووضوح (د) التخطيط للأعمال
٣	من صفات الفرد المنجز
	(أ) الميل إلى الأعمال السهلة والبسيطة (ب) العمل بشكل فردي فقط وعدم التعاون (ج) الالتزام بالمواعيد وتنظيم الوقت (د) تأجيل المهام إلى وقت لاحق
٤	أثر الإنجاز الذاتي في شعور الإنسان تجاه وطنه
	(أ) يجعله يشعر بالانعزال عن المجتمع (ب) يكون مصدر اعتزاز وفخر للشخص ولوطنه (ج) لا علاقة للإنجاز الذاتي بالوطن (د) يقلل من اهتمامه بالقضايا الوطنية
٥	من معايير اختيار المهنة
	(أ) تقليد الوالدين فقط (ب) الميول والقدرات (ج) البعد عن مكان السكن (د) سهولة العمل
٦	حسن العمل ودقته وبذل الجهد للوصول إليه يسمى
	(أ) الإتقان (ب) التطوير (ج) المسؤولية (د) الإبداع
٧	من العوامل المؤثرة في الاقتصاد الوطني
	(أ) الطقس والمناخ (ب) الاستقرار والتخطيط السليم (ج) عدد السائحين فقط (د) مساحة الدولة الجغرافية فقط
٨	المقصود بالطلب في الاقتصاد
	(أ) الكمية المعروضة من سلعة في زمن محدد (ب) الرغبة مع القدرة على شراء سلعة أو خدمة (ج) ارتفاع أسعار السلع في الأسواق (د) توفر الموارد الطبيعية والبشرية
٩	الملك الذي بدأت في عهده الخطط الخمسية للتنمية في المملكة
	(أ) الملك عبدالعزيز (ب) الملك سعود (ج) الملك فيصل (د) الملك فهد
١٠	أثر انخفاض أسعار النفط في الاقتصاد الوطني
	(أ) زيادة موارد الدولة وتطور الخدمات (ب) تقلص الإنفاق وتأثر موارد الدولة سلباً (ج) ثبات الأسعار وعدم تأثر الاقتصاد (د) زيادة رواتب الموظفين فوراً
١١	عدم توافر فرص العمل للراغبين والقادرين عليه
	(أ) التضخم (ب) البطالة (ج) الركود الاقتصادي (د) القوة الشرائية

تابع خلف الورقة

من الأسباب الاجتماعية للبطالة				
(د) النظرة الاجتماعية السلبية تجاه بعض فرص العمل	(ج) الاستعانة بالأيدي العاملة الوافدة	(ب) الركود الاقتصادي	(أ) ضعف الاستثمارات	١٢
نوع البطالة التي يعمل فيها الأفراد في أعمال أقل من مؤهلاتهم				١٣
(د) البطالة الوظيفية	(ج) البطالة المُقْتَنَعَة	(ب) البطالة الاختيارية	(أ) البطالة الهيكلية	
الهيئة الداعمة لرواد الأعمال والمنشآت الصغيرة في المملكة				١٤
(د) مراس	(ج) منشآت	(ب) حافظ	(أ) هدف	
أثر التضخم في قيمة العملة النقدية				١٥
(د) تزيد قدرتها على شراء سلع أكثر	(ج) تثبت قيمتها تماماً	(ب) تنخفض قيمتها النقدية	(أ) ترتفع قيمتها الشرائية	

السؤال الثاني: ضع إشارة ( ✓ ) أمام الإجابة الصحيحة وإشارة ( × ) أمام الإجابة الخاطئة:

١	الإنتاج الذاتي حالة مؤقتة تنتهي بعد إنجاز عمل واحد
٢	الفرد المنجز يميل إلى الأعمال الصعبة ويؤديها بإتقان
٣	الاستفادة من خبرات الآخرين والتعاون معهم يعتبر ضعفاً في الإنتاج الذاتي.
٤	الإنتاج الذاتي يعزز ثقة الإنسان بنفسه
٥	يستطيع الفرد إنتاج كل ما يحتاج إليه دون تخصص العمل والإنتاج يرتبطان بالاقتصاد
٦	من فوائد الإنتاج توفير فرص عمل لأفراد المجتمع.
٨	التطوير في العمل يعني الاكتفاء بالمعارف القديمة وعدم مواكبة الجديد.
٩	يجب اختيار المهنة بما يتوافق مع الميول والقدرات
١٠	المملكة العربية السعودية عضو في مجموعة العشرين
١١	الإجراءات المعقدة وغير الحديثة تساهم في نمو الاقتصاد وازدهاره.
١٢	الاعتماد الكلي على النفط مشكلة اقتصادية
١٣	التضخم يعني انخفاض الأسعار وزيادة القدرة الشرائية
١٤	من آثار البطالة زيادة الجريمة والمخدرات
١٥	البطالة الوظيفية تعني ترك العمل بحثاً عن وظيفة أفضل

انتهت الأسئلة

رابط اختبار الفورمز

[https://forms.office.com/Pages/ShareFormPage.aspx?id=DZRkri6E9EC\\_qGdigAk1c8Mm0nUPK\\_1AjDYTMHH-3qBUQjJQ00oxMjVYVUhlWUEwNzFLSUJURFI4RS4u&sharetoken=9q3flEqHKBrUfYZHPxd](https://forms.office.com/Pages/ShareFormPage.aspx?id=DZRkri6E9EC_qGdigAk1c8Mm0nUPK_1AjDYTMHH-3qBUQjJQ00oxMjVYVUhlWUEwNzFLSUJURFI4RS4u&sharetoken=9q3flEqHKBrUfYZHPxd)

# نموذج الإجابة

السؤال الأول: اختر الإجابة الصحيحة فيما يلي :

المقصود بالحالة الداخلية التي تدفع الفرد للتخطيط والعمل لتحقيق النجاح				١
(د) العمل التطوعي	(ج) الهوية الوطنية	(ب) المسؤولية الاجتماعية	(أ) الإنجاز الذاتي	
أولى خطوات تحقيق الإنجاز الذاتي				٢
(د) التخطيط للأعمال	(ج) تحديد الأهداف بدقة ووضوح	(ب) التعاون مع الآخرين	(أ) بذل الجهد والعمل الدؤوب	
من صفات الفرد المنجز				٣
(د) تأجيل المهام إلى وقت لاحق	(ج) الالتزام بالمواعيد وتنظيم الوقت	(ب) العمل بشكل فردي فقط وعدم التعاون	(أ) الميل إلى الأعمال السهلة والبسيطة	
أثر الإنجاز الذاتي في شعور الإنسان تجاه وطنه				٤
(د) يقلل من اهتمامه بالقضايا الوطنية	(ج) لا علاقة للإنجاز الذاتي بالوطن	(ب) يكون مصدر اعتزاز وفخر للشخص ولوطنه	(أ) يجعله يشعر بالانعزال عن المجتمع	
من معايير اختيار المهنة				٥
(د) سهولة العمل	(ج) البعد عن مكان السكن	(ب) الميول والقدرات	(أ) تقليد الوالدين فقط	
حسن العمل ودقته وبذل الجهد للوصول إليه يسمى				٦
(د) الإبداع	(ج) المسؤولية	(ب) التطوير	(أ) الإتقان	
من العوامل المؤثرة في الاقتصاد الوطني				٧
(د) مساحة الدولة الجغرافية فقط	(ج) عدد السائحين فقط	(ب) الاستقرار والتخطيط السليم	(أ) الطقس والمناخ	
المقصود بالطلب في الاقتصاد				٨
(د) توفر الموارد الطبيعية والبشرية	(ج) ارتفاع أسعار السلع في الأسواق	(ب) الرغبة مع القدرة على شراء سلعة أو خدمة	(أ) الكمية المعروضة من سلعة في زمن محدد	
الملك الذي بدأت في عهده الخطط الخمسية للتنمية في المملكة				٩
(د) الملك فهد	(ج) الملك فيصل	(ب) الملك سعود	(أ) الملك عبدالعزيز	
أثر انخفاض أسعار النفط في الاقتصاد الوطني				١٠
(د) زيادة رواتب الموظفين فوراً	(ج) ثبات الأسعار وعدم تأثر الاقتصاد	(ب) تقلص الإنفاق وتأثر موارد الدولة سلباً	(أ) زيادة موارد الدولة وتطور الخدمات	
عدم توافر فرص العمل للراغبين والقادرين عليه				١١
(د) القوة الشرائية	(ج) الركود الاقتصادي	(ب) البطالة	(أ) التضخم	

تابع خلف الورقة

من الأسباب الاجتماعية للبطالة				
(د) النظرة الاجتماعية السلبية تجاه بعض فرص العمل	(ج) الاستعانة بالأيدي العاملة الوافدة	(ب) الركود الاقتصادي	(أ) ضعف الاستثمارات	١٢
نوع البطالة التي يعمل فيها الأفراد في أعمال أقل من مؤهلاتهم				١٣
(د) البطالة الوظيفية	(ج) البطالة المفتتحة	(ب) البطالة الاختيارية	(أ) البطالة الهيكلية	
الهيئة الداعمة لرواد الأعمال والمنشآت الصغيرة في المملكة				١٤
(د) مراس	(ج) منشآت	(ب) حافظ	(أ) هدف	
أثر التضخم في قيمة العملة النقدية				١٥
(د) تزيد قدرتها على شراء سلع أكثر	(ج) تثبت قيمتها تماماً	(ب) تنخفض قيمتها النقدية	(أ) ترتفع قيمتها الشرائية	

السؤال الثاني: ضع إشارة ( ✓ ) أمام الإجابة الصحيحة وإشارة ( × ) أمام الإجابة الخاطئة:

×	١	الإنجاز الذاتي حالة مؤقتة تنتهي بعد إنجاز عمل واحد
✓	٢	الفرد المنجز يميل إلى الأعمال الصعبة ويؤديها بإتقان
×	٣	الاستفادة من خبرات الآخرين والتعاون معهم يعتبر ضعفاً في الإنجاز الذاتي.
✓	٤	الإنجاز الذاتي يعزز ثقة الإنسان بنفسه
×	٥	يستطيع الفرد إنتاج كل ما يحتاج إليه دون تخصص العمل والإنتاج يرتبطان بالاقتصاد
✓	٦	من فوائد الإنتاج توفير فرص عمل لأفراد المجتمع.
×	٨	التطوير في العمل يعني الاكتفاء بالمعارف القديمة وعدم مواكبة الجديد.
✓	٩	يجب اختيار المهنة بما يتوافق مع الميول والقدرات
✓	١٠	المملكة العربية السعودية عضو في مجموعة العشرين
×	١١	الإجراءات المعقدة وغير الحديثة تساهم في نمو الاقتصاد وازدهاره.
✓	١٢	الاعتماد الكلي على النفط مشكلة اقتصادية
×	١٣	التضخم يعني انخفاض الأسعار وزيادة القدرة الشرائية
✓	١٤	من آثار البطالة زيادة الجريمة والمخدرات
✓	١٥	البطالة الوظيفية تعني ترك العمل بحثاً عن وظيفة أفضل

انتهت الأسئلة

رابط اختبار الفورمز

[https://forms.office.com/Pages/ShareFormPage.aspx?id=DZRkri6E9EC\\_qGdigAk1c8Mm0nUPK\\_1AjDYTMHH-3qBUQjzJQ00oxMjVVVUhIWUEwNzFLSUJURF14RS4u&sharetoken=9q3flEqHKBlrUfYZHPxd](https://forms.office.com/Pages/ShareFormPage.aspx?id=DZRkri6E9EC_qGdigAk1c8Mm0nUPK_1AjDYTMHH-3qBUQjzJQ00oxMjVVVUhIWUEwNzFLSUJURF14RS4u&sharetoken=9q3flEqHKBlrUfYZHPxd)

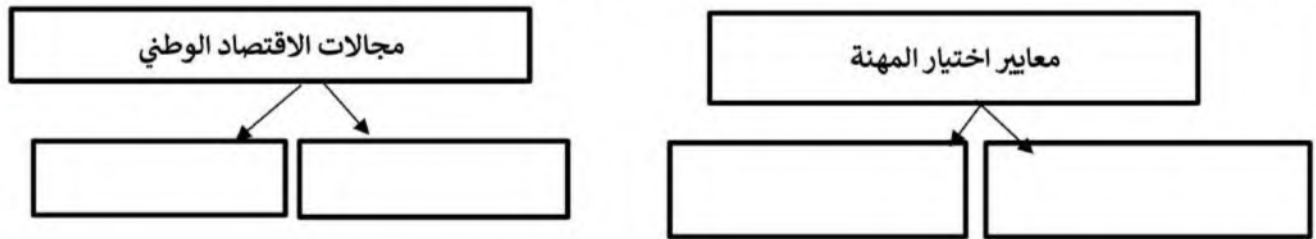
نموذج اسئلة اختبار الوحدة  
المادة: الدراسات الاجتماعية  
الصف: الثالث المتوسط  
الانجاز الذاتي و الاقتصاد  
1447هـ

اسم الطالب/ة	محمد القرني	الدرجة	15
--------------	-------------	--------	----

السؤال الاول ضع/سي علامة ( √ ) امام العبارة الصائبة وعلامة ( x ) امام العبارة الخاطئة ؟

1	عندما يكون الفرد منجزاً فإنه يشعر بالرضا
2	يحث ديننا الاسلامي على العمل و الانتاج
3	الامن و الاستقرار و التخطيط السليم أثر ايجاباً في نمو الاقتصاد الوطني
4	من صفات الفرد المنجز يقوم بأعماله حسب الفراغ
5	من أسباب البطالة ضعف التدريب و التأهيل
6	التطور التقني قلل من الاعتماد على الايدي العاملة
7	يسهم برنامج جودة الحياة في خفض نسبة البطالة
8	تعد المملكة العربية السعودية ثاني اكبر دولة تملك احتياطات نفطية في العالم

السؤال الثاني أكمل خرائط المفاهيم التالية ؟



السؤال الثالث اختر الاجابة الصائبة والصحيحة لما يأتي ؟

1	من يقدر على العمل ولا يرغب فيه مع توفر الفرص :
أ	بطالة اختيارية
ب	بطالة مقنعة
ج	بطالة هيكلية
د	بطالة وظيفية
2	حالة داخلية مرتبطة بمشاعر الفرد توجهه نحو التخطيط و تحقيق النجاح
أ	الانتاج
ب	العمل
ج	الانجاز الذاتي
د	التضخم
3	الانشطة البشرية لافراد المجتمع من ( عمل و انتاج و وخدمات و استهلاك ) :
أ	البطالة
ب	التضخم
ج	الانتاج
د	الاقتصاد الوطني

← انتهت الاسئلة ←

مدير المدرسة: .....

معلم المادة: محمد القرني

# نموذج الاجابة

اسم الطالب/ة	محمد القرني (اجابة)	الدرجة	15
--------------	---------------------	--------	----

السؤال الاول ضع/سي علامة ( √ ) امام العبارة الصائبة وعلامة ( x ) امام العبارة الخاطئة ؟

1	عندما يكون الفرد منجزاً فإنه يشعر بالرضا	√
2	يحث ديننا الاسلامي على العمل و الانتاج	√
3	الامن و الاستقرار و التخطيط السليم أثر ايجاباً في نمو الاقتصاد الوطني	√
4	من صفات الفرد المنجز يقوم بأعماله حسب الفراغ	x
5	من أسباب البطالة ضعف التدريب و التأهيل	√
6	التطور التقني قلل من الاعتماد على الايدي العاملة	√
7	يسهم برنامج جودة الحياة في خفض نسبة البطالة	√
8	تعد المملكة العربية السعودية ثاني اكبر دولة تملك احتياطات نفطية في العالم	√

السؤال الثاني أكمل خرائط المفاهيم التالية ؟



السؤال الثالث اختر الاجابة الصائبة والصحيحة لما يأتي؟

1	من يقدر على العمل ولا يرغب فيه مع توفر الفرص :	أ	بطالة اختيارية	ب	بطالة مقنعة	ج	بطالة هيكلية	د	بطالة وظيفية
2	حالة داخلية مرتبطة بمشاعر الفرد توجهه نحو التخطيط و تحقيق النجاح	أ	الانتاج	ب	العمل	ج	الانجاز الذاتي	د	التضخم
3	الانشطة البشرية لافراد المجتمع من ( عمل و انتاج و خدمات و استهلاك ) :	أ	البطالة	ب	التضخم	ج	الانتاج	د	الاقتصاد الوطني

← انتهت الاسئلة ←

معلم المادة: محمد القرني

مدير المدرسة:



موقع

حلول كتبي

المادة : اجتماعيات
الصف : الثالث المتوسط
اختبار الوحدة ٨ الفصل ٢

السؤال الأول: اختر الإجابة الصحيحة فيما يلي :

١	المواطن الذي يدرك انتماءه لوطنه ويؤدي واجباته تجاهه يسمى	(أ) المواطن الصالح	(ب) المقيم	(ج) السائح	(د) الموظف الحكومي
٢	من مظاهر الاعتزاز بالوطن	(أ) السفر للخارج	(ب) الاعتزاز باللغة العربية	(ج) الاعتماد على اللغات الأجنبية	(د) إهمال التراث
٣	من حقوق المواطن في مجال الصحة	(أ) توفير الرعاية الصحية	(ب) توفير السكن المجاني للجميع	(ج) توزيع الأدوية دون وصفة	(د) فرض رسوم عالية على العلاج
٤	يتحقق الولاء لولي الأمر من خلال	(أ) بالعمل الفردي فقط	(ب) بالسمع والطاعة والتقدير والوفاء بالعهد	(ج) بالانعزال عن المجتمع	(د) بالاهتمام بالمصالح الشخصية فقط
٥	من فوائد الانتماء للوطن	(أ) زيادة الشانعات	(ب) تحقيق الاستقرار النفسي	(ج) الانقسام الاجتماعي	(د) إضعاف الوحدة الوطنية
٦	المفهوم الذي يشمل القيم والضوابط والآداب المنظمة لسلوك الإنسان في المجتمع	(أ) المسؤولية الاجتماعية	(ب) الذوق العام	(ج) الهوية الوطنية	(د) التراث الحضاري
٧	الأساس الأول للهوية السعودية وقيم الذوق العام	(أ) العادات القبلية	(ب) الدين الإسلامي	(ج) القوانين الدولية	(د) الانفتاح الثقافي
٨	الجهة التي أصدرت لائحة المحافظة على الذوق العام في المملكة	(أ) مجلس الشورى	(ب) وزارة التعليم	(ج) مجلس الوزراء	(د) وزارة الإعلام
٩	احترام الذوق العام يدل على	(أ) مدى التطور الثقافي والفكري	(ب) زيادة عدد السكان	(ج) تنوع الموارد الاقتصادية	(د) اتساع المساحة الجغرافية
١٠	من السلوكيات المخالفة للذوق العام	(أ) إفشاء السلام	(ب) خفض الصوت	(ج) الكتابة على الجدران	(د) تقدير الآخرين

تابع خلف الورقة

السؤال الثاني: ضع إشارة ( √ ) أمام الإجابة الصحيحة وإشارة ( × ) أمام الإجابة الخاطئة:

١	من صفات المواطن الصالح أن يكون فاعلاً في مجتمعه طوال سنوات حياته.
٢	التعبير بالكلمة الطيبة وفق أنظمة الدولة يعتبر من حقوق المواطن السعودي.
٣	الانتماء للوطن يتعارض مع الأمر الشرعي الوارد في القرآن والسنة.
٤	يلتزم المقيمون في المملكة العربية السعودية بقيم الدولة واحترام تقاليد المجتمع.
٥	من واجبات المواطن السماح للآخرين بالإضرار بمنجزات الوطن.
٦	نص النظام الأساسي للحكم في المملكة العربية السعودية على أن الأسرة هي نواة المجتمع.
٧	ارتداء ثياب النوم في المساجد أو المناسبات العامة يُعد من الممارسات السليمة.
٨	من مظاهر الذوق العام احترام أسبقية الآخرين وتجنب تجاوزها.
٩	يسمح الذوق العام بارتداء لباس يحمل عبارات مسيئة في الأماكن العامة.
١٠	تهدف لائحة المحافظة على الذوق العام لحماية المجتمع السعودي وقيمه.

انتهت الأسئلة

رابط اختبار الفورمز

[https://forms.office.com/Pages/ShareFormPage.aspx?id=DZRkri6E9EC\\_qGdigAk1c8Mm0nUPK\\_IajDYTMHH-3qBUNFI4Q0VWVlpGQIBSQIBNTFVWRTJHOTc5Qy4u&sharetoken=9q3flEqHKBlrUfYZHPxd](https://forms.office.com/Pages/ShareFormPage.aspx?id=DZRkri6E9EC_qGdigAk1c8Mm0nUPK_IajDYTMHH-3qBUNFI4Q0VWVlpGQIBSQIBNTFVWRTJHOTc5Qy4u&sharetoken=9q3flEqHKBlrUfYZHPxd)

 موقع  
حلول كتبي

# نموذج الإجابة

المادة : اجتماعيات  
الصف : الثالث المتوسط  
اختبار الوحدة ٨ الفصل ٢

السؤال الأول: اختر الإجابة الصحيحة فيما يلي :

١	المواطن الذي يدرك انتماءه لوطنه ويؤدي واجباته تجاهه يسمى	(أ) المواطن الصالح	(ب) المقيم	(ج) السائح	(د) الموظف الحكومي
٢	من مظاهر الاعتزاز بالوطن	(أ) السفر للخارج	(ب) الاعتزاز باللغة العربية	(ج) الاعتماد على اللغات الأجنبية	(د) إهمال التراث
٣	من حقوق المواطن في مجال الصحة	(أ) توفير الرعاية الصحية	(ب) توفير السكن المجاني للجميع	(ج) توزيع الأدوية دون وصفة	(د) فرض رسوم عالية على العلاج
٤	يتحقق الولاء لولي الأمر من خلال	(أ) بالعمل الفردي فقط	(ب) بالسمع والطاعة والتقدير والوفاء بالعهد	(ج) بالانعزال عن المجتمع	(د) بالاهتمام بالمصالح الشخصية فقط
٥	من فوائد الانتماء للوطن	(أ) زيادة الشانعات	(ب) تحقيق الاستقرار النفسي	(ج) الانقسام الاجتماعي	(د) إضعاف الوحدة الوطنية
٦	المفهوم الذي يشمل القيم والضوابط والآداب المنظمة لسلوك الإنسان في المجتمع	(أ) المسؤولية الاجتماعية	(ب) الذوق العام	(ج) الهوية الوطنية	(د) التراث الحضاري
٧	الأساس الأول للهوية السعودية وقيم الذوق العام	(أ) العادات القبلية	(ب) الدين الإسلامي	(ج) القوانين الدولية	(د) الانفتاح الثقافي
٨	الجهة التي أصدرت لائحة المحافظة على الذوق العام في المملكة	(أ) مجلس الشورى	(ب) وزارة التعليم	(ج) مجلس الوزراء	(د) وزارة الإعلام
٩	احترام الذوق العام يدل على	(أ) مدى التطور الثقافي والفكري	(ب) زيادة عدد السكان	(ج) تنوع الموارد الاقتصادية	(د) اتساع المساحة الجغرافية
١٠	من السلوكيات المخالفة للذوق العام	(أ) إفشاء السلام	(ب) خفض الصوت	(ج) الكتابة على الجدران	(د) تقدير الآخرين

تابع خلف الورقة

موقع  
حلول كتبي

السؤال الثاني: ضع إشارة ( ✓ ) أمام الإجابة الصحيحة وإشارة ( × ) أمام الإجابة الخاطئة:

✓	من صفات المواطن الصالح أن يكون فاعلاً في مجتمعه طوال سنوات حياته.	١
✓	التعبير بالكلمة الطيبة وفق أنظمة الدولة يعتبر من حقوق المواطن السعودي.	٢
✗	الانتماء للوطن يتعارض مع الأمر الشرعي الوارد في القرآن والسنة.	٣
✓	يلتزم المقيمون في المملكة العربية السعودية بقيم الدولة واحترام تقاليد المجتمع.	٤
✗	من واجبات المواطن السماح للآخرين بالإضرار بمنجزات الوطن.	٥
✓	نص النظام الأساسي للحكم في المملكة العربية السعودية على أن الأسرة هي نواة المجتمع.	٦
✗	ارتداء ثياب النوم في المساجد أو المناسبات العامة يُعد من الممارسات السليمة.	٧
✓	من مظاهر الذوق العام احترام أسبقية الآخرين وتجنب تجاوزها.	٨
✗	يسمح الذوق العام بارتداء لباس يحمل عبارات مسيئة في الأماكن العامة.	٩
✓	تهدف لائحة المحافظة على الذوق العام لحماية المجتمع السعودي وقيمه.	١٠

انتهت الأسئلة

## رابط اختبار الفورمز

[https://forms.office.com/Pages/ShareFormPage.aspx?id=DZRkri6E9EC\\_qGdigAk1c8Mm0nUPK\\_IajDYTMHH-3qBUNFI4Q0VWVlpGQIBSQIBNTFVWRTJHOTc5Qy4u&sharetoken=9q3flEqHKBrUfYZHPxd](https://forms.office.com/Pages/ShareFormPage.aspx?id=DZRkri6E9EC_qGdigAk1c8Mm0nUPK_IajDYTMHH-3qBUNFI4Q0VWVlpGQIBSQIBNTFVWRTJHOTc5Qy4u&sharetoken=9q3flEqHKBrUfYZHPxd)

